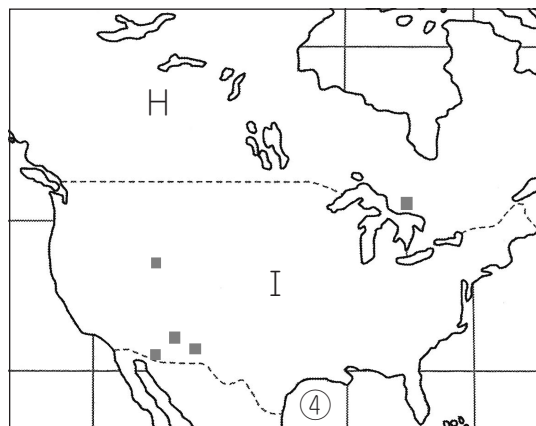
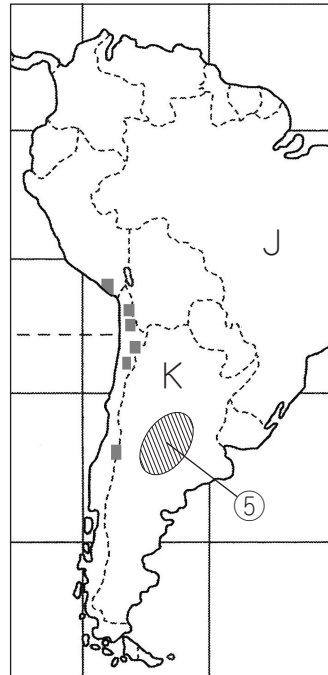
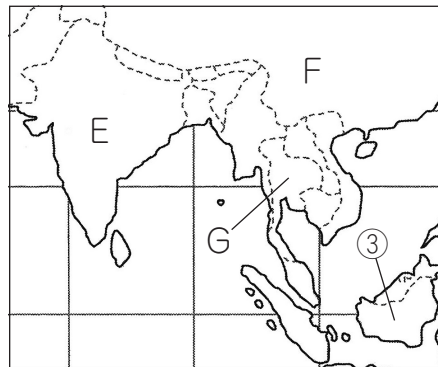
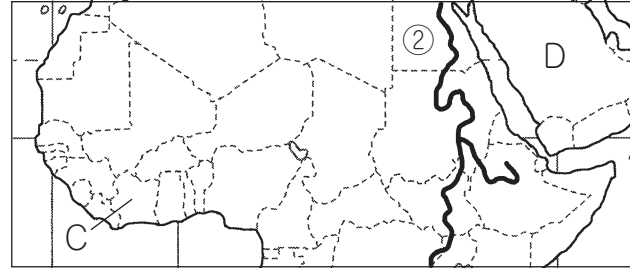
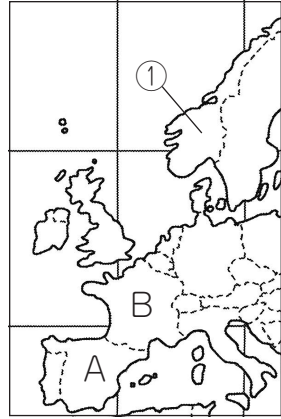


社会

1. 次の地図を見て、あとの設問に答えなさい。



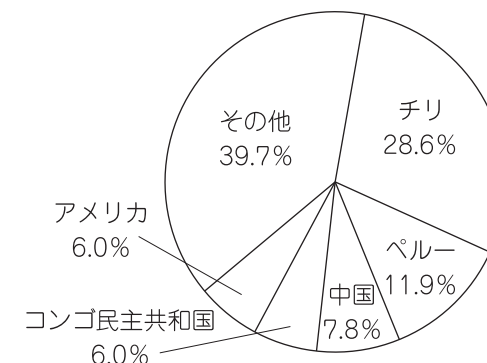
問1. 地図中のA・D・Gの国で、最も多くの人信仰している宗教(宗派)の組み合わせを、次のア～オから1つ選び、記号で答えなさい。

	A	D	G
ア	カトリック	正教会	イスラム教
イ	正教会	ヒンドゥー教	仏教
ウ	プロテスタント	イスラム教	ヒンドゥー教
エ	プロテスタント	ヒンドゥー教	イスラム教
オ	カトリック	イスラム教	仏教

問2. 地図中のCの国について述べた文章を、次のア～エから1つ選び、記号で答えなさい。また、その選んだ文章中の()に当てはまる語句も、合わせて答えなさい。

- ア. 乾燥帯に属しており、国土の大半は砂漠です。古代文明が栄えた地としても有名で、毎年多くの観光客がこの国を訪れます。乾燥に強い()の栽培がさかんで、その実はデザートとよばれ、この国周辺では主要な食品の1つとなっています。
- イ. 熱帯から乾燥帯にあたり、キリンやライオンなどの野生動物が見られる地域があります。世界有数の()の生産国でもあります。
- ウ. 熱帯に属しており、雨季と乾季があります。植民地時代にヨーロッパ人が持ち込んだ()の生産が盛んで、現在では世界有数の生産国となっています。
- エ. ニジェール川の下流にあたり、この国がある大陸では、最も人口の多い国です。沿岸部で()が多く生産され、その輸出によって経済が成り立っています。


問3. 地図中の■は、ある鉱産資源の産出地を示しています。また次のグラフは、その鉱産資源の主要生産国の生産割合(2019年)を表したものです。鉱産資源名を答えなさい。



『世界国勢図会 2022/2023』

問4. 地図中のHの国の北部で遊牧生活をおこなっている、「人々」を意味する呼び名の先住民族を何というか答えなさい。

問5. ①～③のグラフは、米・小麦・とうもろこしの生産量と輸出量の国別割合(2020年)を表したものです。グラフについて正しく述べた文章を、次のア～カから2つ選び、記号で答えなさい。なお、グラフ中のアルファベットは、地図中A～Kの国を示しています。



【世界国勢図会 2022/2023】

- ア. ①は小麦、②は米のグラフである。
 イ. ②は小麦、③はとうもろこしのグラフである。
 ウ. ①はとうもろこし、③は小麦のグラフである。
 エ. ①の農作物では、輸出量上位4か国の合計量より、Iの生産量の方が多い。
 オ. ②の農作物では、輸出量上位4か国の中に、生産量上位5か国に含まれない国が2つあるが、どちらも南半球に位置する国である。
 カ. ③の農作物では、生産量上位5か国にアジア州に属する国が2つ入っているが、輸出量上位5か国は全てヨーロッパ州の国になっている。

問6. 地図中の①～⑤について、次の各問いに答えなさい。

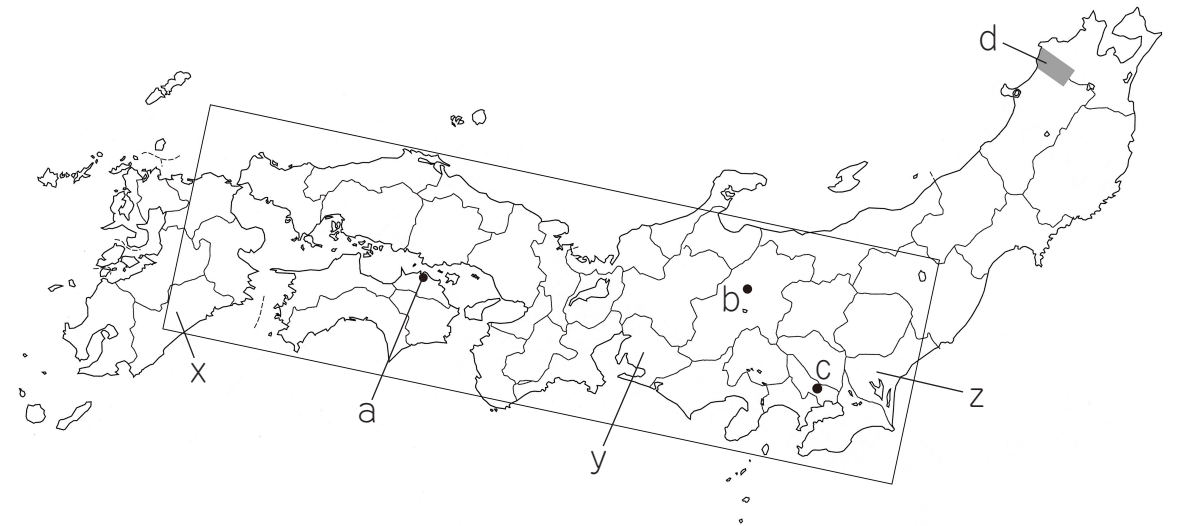
- ①の半島名を、次のア～エから1つ選び、記号で答えなさい。
 ア. カムチャツカ半島 イ. イベリア半島 ウ. フロリダ半島
 エ. スカンディナビア半島
- ②の河川名を、次のア～エから1つ選び、記号で答えなさい。
 ア. アマゾン川 イ. ナイル川 ウ. ミシシッピ川 エ. インダス川
- ③の島の名称を、次のア～エから1つ選び、記号で答えなさい。
 ア. カリマンタン島 イ. ニューギニア島 ウ. マダガスカル島
 エ. スマトラ島
- ④の湾の名称を、次のア～エから1つ選び、記号で答えなさい。
 ア. ギニア湾 イ. ハドソン湾 ウ. ペルシア湾 エ. メキシコ湾
- ⑤の草原地帯の名称を、次のア～エから1つ選び、記号で答えなさい。
 ア. セルバ イ. リャノ ウ. パンパ エ. カンボ

2. 次の文章と地図を見て、あとの設問に答えなさい。

ユーラシア大陸の東、環太平洋造山帯に属する日本列島は、火山を含む標高の高い山々が連なっており、陸地の約4分の3が山地と丘陵地から成り立っています。日本列島の地形は、日本アルプスから、その東側に南北にのびる あ を境にして東西で大きく異なり、東側では、ほぼ南北方向にのびる高く険しい山脈と、関東平野をはじめ、いくつもの平野が広がっています。一方、西側では多くの山地がほぼ東西に連なっています。日本アルプスより西の山地では、標高が2000 mをこえる高い山はありません。広い平野は少なく、九州地方には活発に活動する火山が多くみられます。

日本は、太平洋・日本海・オホーツク海・東シナ海といった海に周囲を囲まれた島国です。また、東日本の太平洋沖は、暖流の黒潮(日本海流)と寒流の親潮(千島海流)がぶつかる潮目になっており、豊かな漁場となっています。日本列島は南北に長く、地形や季節風の影響もあり、地域によって異なった気候が見られます。そのような気候の違いや四季の変化に応じて、農業がおこなわれ、また各地でさまざまな工芸品が作られてきました。

第二次世界大戦後には、急速に工業化が進み、世界でも有数の工業国に発展した日本ですが、原料や燃料となる鉱産資源にとぼしく、現在、そのほとんどを海外からの輸入にたよっています。



問1. 下線部①～⑤について、次の各問いに答えなさい。

- ①に関して、この山脈や平野に該当しないものを、次のア～エから1つ選び、記号で答えなさい。
 ア. 石狩平野 イ. 庄内平野 ウ. 奥羽山脈 エ. 紀伊山地
- ②に関して、九州地方の火山に該当しないものを、次のア～エから1つ選び、記号で答えなさい。
 ア. 御嶽山 イ. 雲仙岳 ウ. 霧島山 エ. 阿蘇山

③に関して、黒潮が近くを流れない半島・島を、次のア～エから1つ選び、記号で答えなさい。

- ア. 隠岐島 イ. 房総半島 ウ. 種子島 エ. 伊豆半島

④に関して、東北地方の伝統的工芸品に該当しないものを、次のア～エから1つ選び、記号で答えなさい。

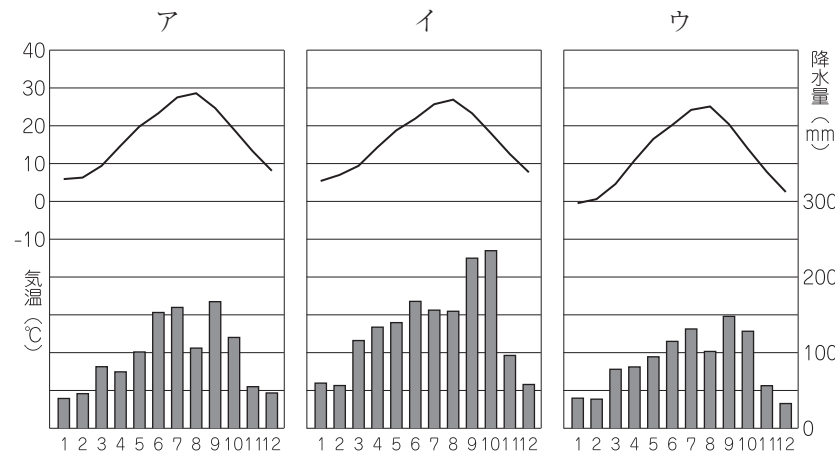
- ア. 天童将棋駒 イ. 南部鉄器 ウ. 西陣織 エ. 会津塗

⑤に関して、太平洋ベルトに該当しない工業地帯・工業地域を、次のア～エから1つ選び、記号で答えなさい。

- ア. 東海工業地域 イ. 北陸工業地域 ウ. 京浜工業地帯 エ. 阪神工業地帯

問2. 文章中の あ は、新潟県糸魚川市から静岡県静岡市を結んだ線を西端として東側に広がる地域で、大地の大きな溝のことです。これを何というか答えなさい。

問3. 文章中の波線部に関して、次のア～ウの雨温図は、地図中 a～c の3地点のもので、bの雨温図をア～ウから1つ選び、記号で答えなさい。また、その気候区分の名称も合わせて答えなさい。



【日本国勢図会 2022/2023】

問4. 地図上のdは、広大なぶなの原生林など、豊かな自然が残る山地で、その一部は、1993年に世界自然遺産に登録されました。この山地を何というか答えなさい。

問5. 次のA～Dの表は、それぞれ「豚の飼育数」(2021年)・「肉用若鶏の飼育数」(2021年)・「ピーマンの収穫量」(2020年)・「キャベツの収穫量」(2020年)の県別割合を示したものです。「豚の飼育数」と「ピーマンの収穫量」に該当する表の組み合わせとして正しいものを、次のア～カから1つ選び、記号で答えなさい。なお、表中のx～zは、地図中のx～zの県を示しています。

A	
z	22.7%
x	18.7%
高知	9.1%
鹿児島	8.2%
岩手	5.8%
その他	35.5%

B	
x	20.1%
鹿児島	19.4%
岩手	16.2%
青森	5.1%
北海道	3.6%
その他	35.6%

C	
鹿児島	13.3%
x	8.6%
北海道	7.8%
群馬	6.9%
千葉	6.6%
その他	56.8%

D	
y	18.3%
群馬	17.9%
千葉	8.3%
z	7.4%
鹿児島	5.0%
その他	43.1%

【日本国勢図会 2022/2023】・農林水産省「野菜生産出荷統計」(2020)

- ア. 豚－A・ピーマン－C
 イ. 豚－B・ピーマン－A
 ウ. 豚－C・ピーマン－D
 エ. 豚－A・ピーマン－B
 オ. 豚－B・ピーマン－D
 カ. 豚－C・ピーマン－A

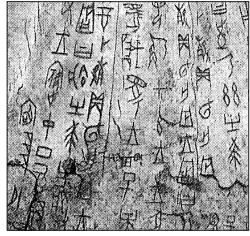
問6. 次のア～ウは、地図中 □ で囲まれた地域に焦点を当てたものです。色の塗られた都府県は、「石油製品・石炭製品の製造品出荷額」(2019年)・「食料品工業の製造品出荷額」(2019年)・「果実の産出額」(2021年)のいずれかについて、全国10位以内であることを示しています。「食料品工業の製造品出荷額」を示しているものはどれか、ア～ウから1つ選び、記号で答えなさい。



【日本国勢図会 2022/2023】・農林水産省「生産農業所得統計」

3. 各史料や写真について、あとの設問に答えなさい。

A



問1. 写真Aに書かれた文字は、亀の甲や牛の骨に刻まれており、意図的に焼いた跡が見られます。この文字を使用した文明では、どのような方法で、戦争や農業のことを決めていたと考えられているか、簡潔に説明しなさい。

- B 一 に曰く、和をもつて^{たつと}貴しとなし、さからうことなきを^{むね}宗となせ。
 二 に曰く、あつく^{さんぼう}三宝を敬え。三宝とは仏法僧なり。
 三 に曰く、^{みことのり}詔を^{うけたまわ}承りては、^{つつし}必ず謹め。
 《四以後は略》 (一部読み下し文)

問2. 史料Bが出された当時の中国で栄えた国を、次の選択肢から選び、ひらがなを漢字に直して答えなさい。

【いん しゅう しん かん ずい とう そう げん みる しん】

問3. 史料Bが出された目的として正しいものを、次のア～オから1つ選び、記号で答えなさい。

- ア. 天皇につかえる豪族たちの序列をはっきりさせようとした。
 イ. 豪族たちが役人として天皇につかえる心がまえを示そうとした。
 ウ. 豪族たちに貢物を納めさせ、従者を差し出させようとした。
 エ. 金印をもらって、豪族たちに王の地位を認めさせようとした。
 オ. 豪族たちに律令に基づいた政治をさせようとした。

- C ^{からころむ}可良己呂武 ^{すそにとりつき}須宗尔等里都伎 ^{なくころを}奈苦古良乎
^{おきてそきぬや}意伎豆曾伎怒也 ^{おもなしにして}意母奈之尔志豆

問4. 史料Cは、漢字の音や訓で日本語をあらわしています。このような日本語のあらわし方に用いられた文字を何というか答えなさい。

問5. 史料Cは、東日本から九州の防衛に派遣された人がよんだ歌です。九州の防衛にあたった人々は何と呼ばれていたか答えなさい。

D みな心を一つにして聞きなさい。これが最後の言葉です。頼朝殿が平氏を征伐し、幕府を開いて以降、その御恩は山よりも高く、大海よりも深いものです。お前たちも御恩に報いる気持ちはあるでしょう。ところが今、執権北条義時を討てという命令が、朝廷から出されました。名誉を重んじる者は、源氏三代の将軍が築き上げたものを守りなさい。上皇方につきたいと思うものは、今すぐ申し出なさい。
 (『吾妻鏡』より一部要約)

問6. 史料Dの下線部は、将軍と主従関係を結んだ武士たちのことです。この武士たちは何と呼ばれたか答えなさい。

問7. 史料Dは、ある争いに際して行われた演説です。争いの後、幕府が朝廷や西日本の武士などを監視するために、京に設置した役所を何というか答えなさい。

- E ^{このころ}此比都二ハヤル物
^{ようち}夜討 ^{にせりんじ}強盗 ^{めしうど}謀綸旨
^{めしうど}召人 ^{そらそうどう}早馬 ^{げんぞく}虚騒動
^{げんぞく}生首 ^{げんぞく}還俗 ^{まよいもの}自由出家
^{にわかだみょう}俄大名 ^{まよいもの}迷者
^{あんど}安堵 ^{そらいくさ}恩賞 ^{そしょう}虚軍
^{ほんりょう}本領 ^{そしょう}ハナルル訴訟人
^{もんじょいれ}文書入タル ^{ほそつづら}細葛 (『二条河原の落書』)

問8. 史料Eが書かれたころの、世界のできごととして正しいものを、次のア～オから1つ選び、記号で答えなさい。

- ア. 聖地エルサレムをめぐって、第一回十字軍が派遣された。
 イ. ドイツのルターらが宗教改革をおこなった。
 ウ. ムハンマドがイスラム教を開いた。
 エ. マゼラン隊が世界一周に成功した。
 オ. イタリアでルネサンスが始まった。

- F 正長元年ヨリ
^はサキ者カンヘ四カン
 カウニヲキメアル
 ヘカラス

問9. 史料Fは、「ヲキメ(借金)」を帳消しにするという宣言です。この宣言を出すきっかけとなった、近江の馬借や京都周辺の農民が、酒屋や土倉をおそったできごとを何というか答えなさい。

- G 一 百姓が刀・わきざし・弓・やり・鉄砲、その他の武具を所持することを固く禁止する。
その理由は、不必要な武具を持つと、年貢を納めずに一揆をくだてることになるので、大名と家臣は、百姓の所持する武具をすべて取り上げ、秀吉に差し出すこと。
- 一 百姓は、農具を持ち、耕作だけを行ってれば、子々孫々まで長く続くであろう。
(『小早川家文書』より一部要約)

問 10. 史料Gの政策を何というか答えなさい。

- H 一 新しい城をつくってはいけない。石垣などがこわれたときは奉行所の指示を受けること。
おぎょうしょ
- 一 大名は、かつてに結婚してはいけない。
- 一 500石積み以上の船をつくってはならない。
(一部抜粋および要約)

問 11. 1635年、史料Hの法令に、3代将軍は

「一 大名は、毎年四月中に江戸へ参勤すること。」

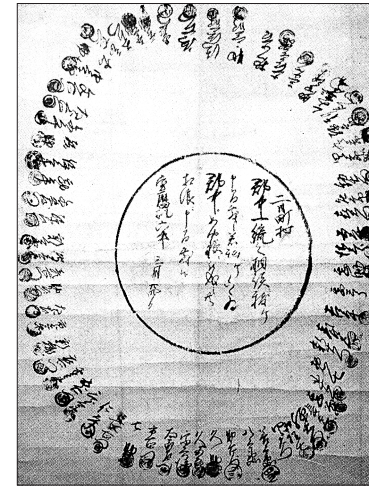
と加えました。3代将軍の名前を答えなさい。

- I 一 人を殺し盗みをした者は、市中を引き回したうえ獄門とする。
ごくもん
- 一 百姓が徒党を組んで城下などにくり出して領主に訴えごとをしたとき、
ととう
その代表者は死刑に、庄屋(名主)は村から追放する。
しょうや なぬし
(一部要約)

問 12. 史料Iの法令が出された江戸時代の改革について、改革の名前と実施者の組み合わせとして正しいものを、次のア～カから1つ選び、記号で答えなさい。

	改革の名前	実施者
ア	享保の改革	水野忠邦
イ	享保の改革	徳川吉宗
ウ	寛政の改革	松平定信
エ	寛政の改革	水野忠邦
オ	天保の改革	徳川吉宗
カ	天保の改革	松平定信

問 13. 次の写真は、百姓一揆の参加者が署名した証文です。史料Iを参考に、なぜ円形に署名したのか、その目的として正しいものを、次のア～オから1つ選び、記号で答えなさい。



- ア. 一揆の首謀者(リーダー)が誰か分かりにくくするため。
- イ. 一揆の参加者の団結の輪をつくるため。
- ウ. 一揆の成功を神仏に願うため。
- エ. 一揆の参加者が輪になって書いたため。
- オ. 一揆の参加者と不参加者を明確にするため。


J 現在の政権がどこにあるかを考えてみると、天皇にも人民にもない。ただ一部の政府の役人が独占している状況である。…政府が出す命令は多く、その命令もしきりに変わり、政治や刑罰は感情によって行われている。意見を述べる道はふさがれている。…こうしたやり方を変えなければ、おそらく国家は崩壊するだろう。このゆきづまりを救う道は、天下の人民の言論の道をひらくことだけである。それには民撰議院を立てるしかない。
みんせん
(一部要約)

問 14. 史料Jの下線部は、倒幕を主導した藩出身者が多くいました。このような一部の役人による政府は、のちに何と呼ばれたか答えなさい。

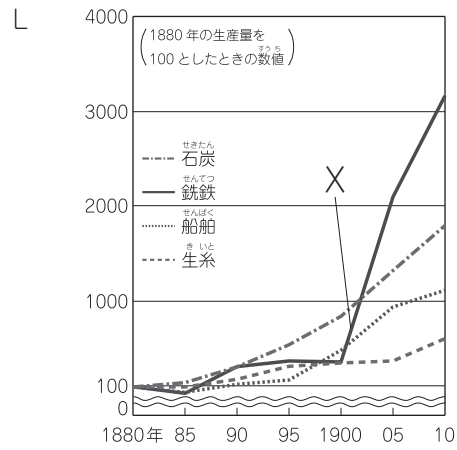
問 15. 史料Jが出されたあとに起こった次のア～オのできごとを、古い順に並べ替えなさい。

- ア. 秩父事件が起こる。
- イ. 西南戦争が起こる。
- ウ. 開拓使官有物払い下げ事件が起こる。
- エ. 内閣制度が創設される。
- オ. 国会期成同盟ができる。

K




問 16. 史料Kは、日清戦争開戦前の国際関係を風刺しています。日本・清・ロシアがどこをめぐって対立していることを風刺しているのか答えなさい。



問 17. 史料LのXの年から、日本の銑鉄生産量が飛躍的に伸びています。その理由として正しいものを、次のア～オから1つ選び、記号で答えなさい。

- ア. 富岡製糸場などの西洋技術が広まった。
- イ. 大阪紡績会社が、大規模な機械生産を開始した。
- ウ. 生糸の輸出で外貨を獲得し、銑鉄の購入が増えた。
- エ. 官営の八幡製鉄所が操業し、鉄鋼需要の増大に備えた。
- オ. 日露戦争が始まり、武器弾薬が必要になった。

M



問 18. 写真Mは、1928年に実施された、衆議院解散後の第一回普通選挙のポスターです。この時の選挙権について正しいものを、次のア～オから1つ選び、記号で答えなさい。

- ア. 満25歳以上で直接国税15円以上納める男子に選挙権があった。
- イ. 満25歳以上で直接国税10円以上納める男子に選挙権があった。
- ウ. 満25歳以上で直接国税3円以上納める男子に選挙権があった。
- エ. 満25歳以上の男子全てに選挙権があった。
- オ. 満20歳以上の男女全てに選挙権があった。

問 19. 第一回普通選挙が実施されるまでに起こった、次のア～オのできごとを古い順番に並び替えたとき、最も新しいできごとを、記号で答えなさい。

- ア. 治安維持法が成立する。
- イ. ワイマール憲法が制定される。
- ウ. 関東大震災が起こる。
- エ. ソビエト社会主義共和国連邦が成立する。
- オ. 米騒動が起こる。

N



問 20. 写真Nは、長崎に投下された原子爆弾のきのこ雲の写真です。投下された年月日を答えなさい。

4. 2022年2月から10月に、日本国内や世界各国で起こったできごとのうち、【1】～【5】に適する語句を答えなさい。また、下線部に関するあとの設問に答えなさい。

- 2022年2月 冬季オリンピックが中国の首都【1】で開催された
ロシアが隣国の【2】に軍事侵攻した
- 4月 民法が改正され、成人年齢が20歳から【3】歳となった
- 5月 【4】県が日本本土復帰50年を迎えた
- 6月 ヨーロッパ連合が【2】とモルドヴァを「加盟候補国」に承認した
①
- 7月 参議院議員普通選挙で、自民党は改選議席の過半数を獲得した
②
- 9月 外国為替相場で20数年ぶりに1ドル140円台となった
③
イギリスのエリザベス女王が死去した
④
国際連合の総会がニューヨークで開催された
⑤
政府と日本銀行が為替介入を実施した
⑥
- 10月 臨時国会が召集された
⑦
政府は2024年に健康保険証を廃止し、【5】カードとの一本化を表明した

問1. 下線部①について述べた文のうち正しいものを、次のア～エから1つ選び、記号で答えなさい。

- ア. 経済の統合は目指しているが、政治や外交におよぶ統合は目指していない。
イ. 全加盟国が共通通貨ユーロを導入している。
ウ. 加盟国各国の憲法よりもこの組織の法や規制が優先される。
エ. イギリスではこの組織から離脱しようとする気運が高まっている。

問2. 下線部②について述べた文のうち誤っているものを、次のア～エから1つ選び、記号で答えなさい。

- ア. 参議院議員の任期は6年である。
イ. 参議院議員の被選挙権は30歳である。
ウ. 参議院に解散はない。
エ. 参議院の選挙区には比例代表はない。

問3. 下線部③について、次の(1)(2)の問いに答えなさい。

1ドル=100円から1ドル=140円になった

(1) このような推移を「円《a》ドル《b》になった」と表したとき、《a》《b》に適する語句を答えなさい。

(2) このような状況になったときに起こることとして正しいものを、次のア～エから1つ選び、記号で答えなさい。

- ア. ハワイ旅行に行く人にとって、空港の両替所で受け取るドルが多くなる。
イ. アメリカ産の牛肉を輸入するとき、価格が高くなり輸入量が増える。
ウ. 日本でつくった自動車をアメリカへ輸出するとき、価格が安くなり輸出量が増える。
エ. 海外の土地代や人件費が安くなり、日本企業が工場を海外へ移しやすくなる。

問4. 下線部④について、この国の思想家で、著書『統治二論』において社会契約説を説き、のちの「アメリカ独立宣言」や「フランス人権宣言」に影響を与えた人物を、次のア～エから1つ選び、記号で答えなさい。

- ア. ルソー イ. ロック ウ. ヴォルテール エ. モンテスキュー

問5. 下線部⑤内に設置されている機関の一つで、世界の平和と安全の維持に責任を負う理事會を何というか、次の《 》に適する語句を答えなさい。

《 》理事會

問6. 下線部⑥について述べた文のうち誤っているものを、次のア～エから1つ選び、記号で答えなさい。

- ア. 税金など国の収入を預かり、政府に代わって年金や公共工事の代金を支払う。
イ. 紙幣（日本銀行券）と硬貨を発行する唯一の銀行である。
ウ. 銀行から資金を預かり、銀行に資金を貸す。
エ. 通貨の量を調節して、景気や物価の安定をはかる金融政策をおこなう。

問7. 下線部⑦について、次の(1)(2)の問いに答えなさい。

(1) 下線部⑦について述べた文のうち正しいものを、次のア～エから1つ選び、記号で答えなさい。

- ア. 毎年1回召集され、予算案や法律案を審議する。
イ. 衆議院解散後の、総選挙後に開かれる。
ウ. 内閣またはいずれかの議院の総議員の4分の1以上の要求があったとき開かれる。
エ. 衆議院解散中に緊急の必要があるとき、内閣の求めにより開かれる。

(2) 国会について定めた憲法条文のうち、次の《あ》《い》に適する語句を答えなさい。

第41条 国会は、《あ》の最高機関であって、国の唯一の《い》機関である。